

<新しい計算を考えよう②>

くみ	ばん	なまえ
----	----	-----

1 3のだんの九九について 答えましょう。

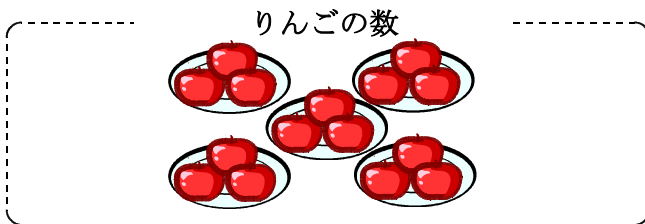
(1) 3のだんの九九で かける数が 1ふえると
答えは いくつつつ ふえて いきますか。

ずつ ふえていく。

(2) 3×7 の 答えを 書きましょう。

(3) 3×2 と 答えが 同じになる
2のだんの九九を 書きましょう。


2 つぎの 絵を見て、りんごの数、タイヤの数に なるしきを 線で むすびましょう。



・ 5×2

・

・ 3×5



・ 4×3

・

・ 3×3

<新しい計算を考えよう②>

こたえ

く	み	ば	ん	な	ま	え

① 3のだんの九九について 答えましょう。

(1) 3のだんの九九で かける数が 1ふえると
答えは いくつつつ ふえて いきますか。

3 ずつ ふえていく。


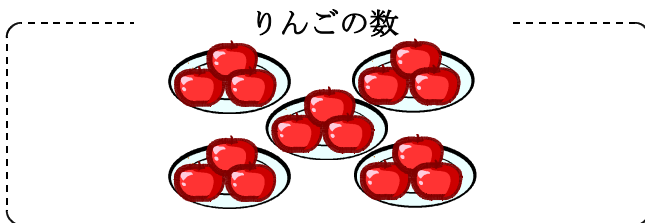
(2) 3×7 の 答えを 書きましょう。

21

(3) 3×2 と 答えが 同じになる
2のだんの九九を 書きましょう。

2×3

② つぎの 絵を見て、りんごの数、タイヤの数に なるしきを 線で むすびましょう。



- ・ 5×2
- ・ 3×5
- ・ 4×3
- ・ 3×3

※うちのひとにも みてもらいましょう。