
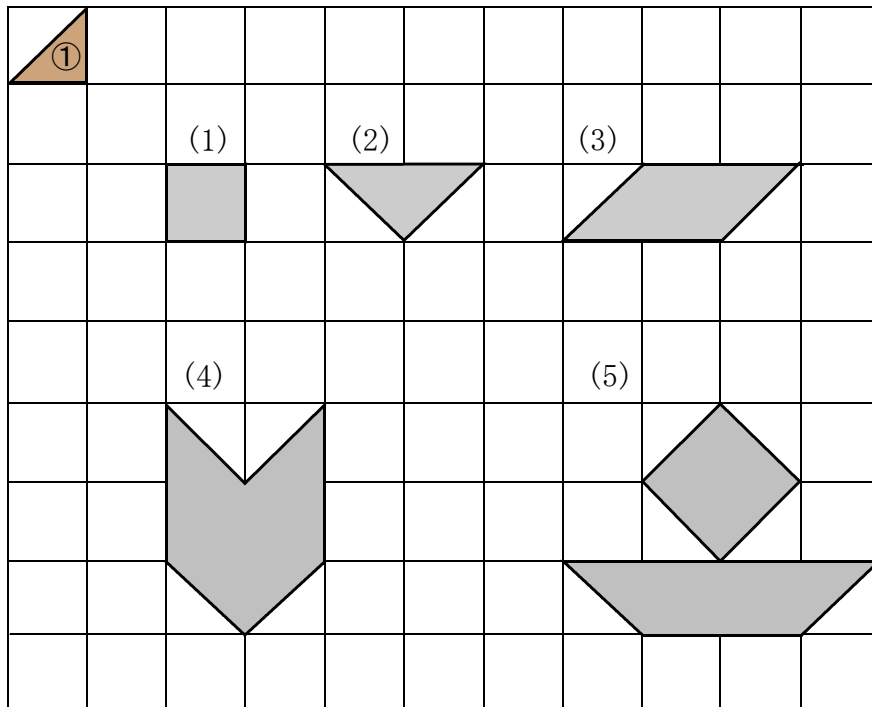


<かたちづくり①>

くみ	ばん	なまえ
----	----	-----

①  のいろいたをならべていろいろなかたちをつくります。

したの(1)から(5)のかたちは①のいろいたがなんまいでできますか。



(1) まい

(2) まい

(3) まい


(4) まい

(5) まい

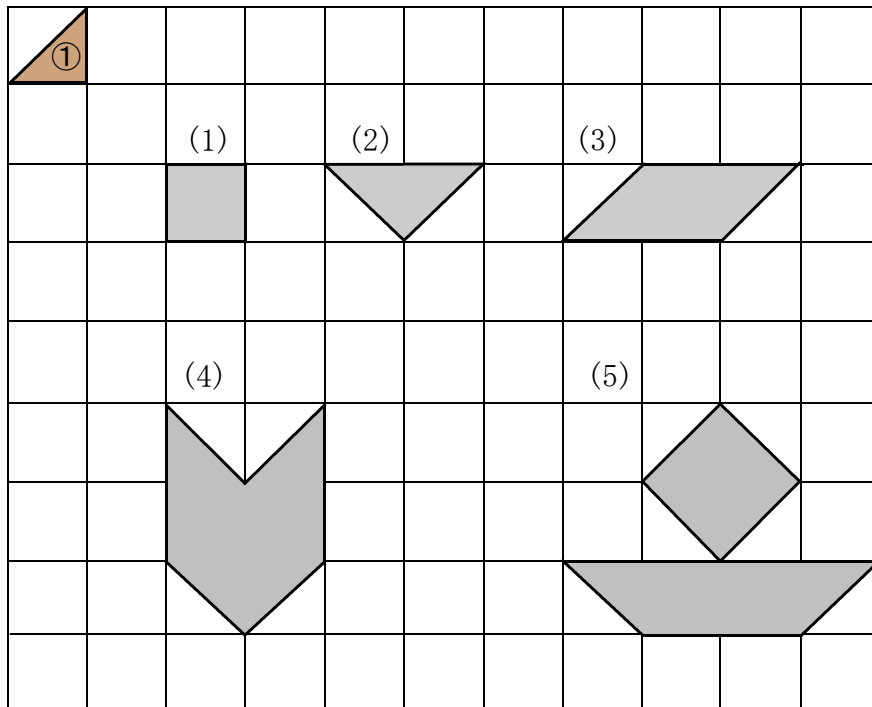
<かたちづくり①>

こたえ

く	み	ば	ん	な	ま	え
---	---	---	---	---	---	---

①  のいろいたを ならべて いろいろな かたちをつくれます。

したの (1)から (5)の かたちは ①の いろいたが なんまいで できますか。



(1) まい (2) まい (3) まい

(4) まい (5) まい

※おうちのひとにも みてもらいましょう。