


<どちらがおおい・どちらがひろい①>

く	み	ば	ん	な	ま	え
---	---	---	---	---	---	---

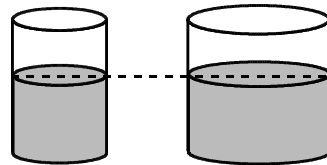
1 みずが おおく はいっているほうに ○を つけましょう。

(1) いれものの おおきさは  
おなじです。



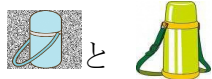
( ) ( )

(2) みずの たかさは おなじです。







( ) ( )

2 いれものの みずを おおきさのちがう こップに うつして くらべました。



では どちらの すいとうに みずが おおく  
はいっているか わかりません。そのわけを かきましょう。

わけ


**<どちらがおおい・どちらがひろい①>**

**こたえ**

く	み	ばん	なまえ
---	---	----	-----

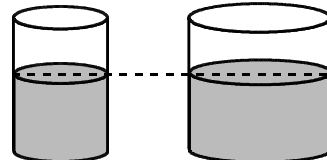
1 みずが おおく はいっているほうに ○を つけましょう。

(1) いれものの おおきさは おなじです。



( ○ ) ( )

(2) みずの たかさは おなじです。







( ) ( ○ )

2 いれものの みずを おおきさのちがう こっぷに うつして くらべました。



では どちらの すいとうに みずが おおく はいっているか わかりません。そのわけを かきましょう。

わけ

こっぷのおおきさがちがうと、くらべる  
ことができないから。

※ほかにも いろいろな こたえかたが あります。

※おうちのひとにも みてもらいましょう。