

<おおきいかず②>

| | | |
|----|----|-----|
| くみ | ばん | なまえ |
|----|----|-----|

- ① どちらの かずが おおきいですか。 おおきいほうの () に ○をかきましょう。

34

43

()

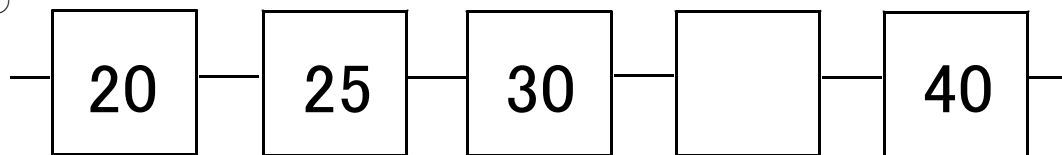
()

- ② かずの せんをみて こたえましょう。

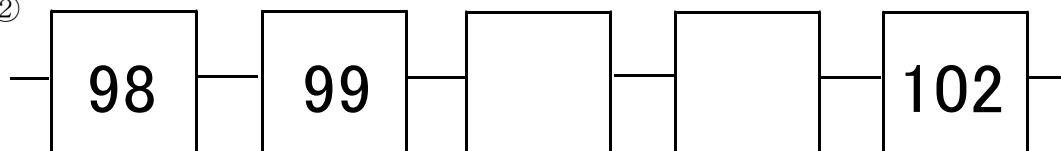


じゅんばんに ならぶように、 に かずを かきましょう。

①



②



<おおきいかず②>

こたえ

| | | |
|----|----|-----|
| くみ | ばん | なまえ |
|----|----|-----|

- ① どちらの かずが おおきいですか。 おおきいほうの () に ○をかきましょう。

34

43

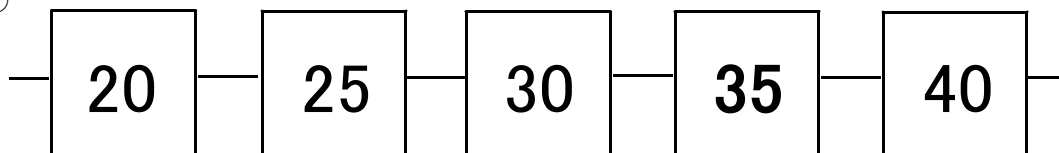
() (○)

- ② かずの せんをみて こたえましょう。

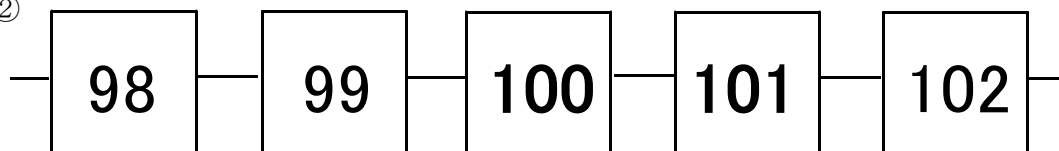


じゅんばんに ならぶように、 に かずを かきましょう。

①



②



※おうちのひとにも みてもらいましょう。