


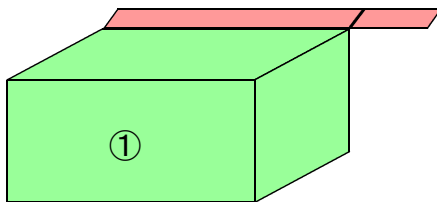
<どちらがながい①>

くみ	ばん	なまえ
----	----	-----

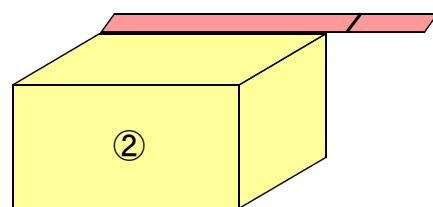
① ①から③のなかでどのてえぷがいちばんながいでしょうか。
いちばんながいてえぷの()に○をかきましょう。



② おなじてえぷで2つのはこのよこのながさをくらべました。
①と②ではどちらのはこがながいでしょうか。ながいほうの
()に○をかきましょう。



()




()

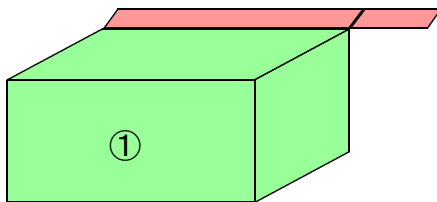
こたえ

くみ	ばん	なまえ
----	----	-----

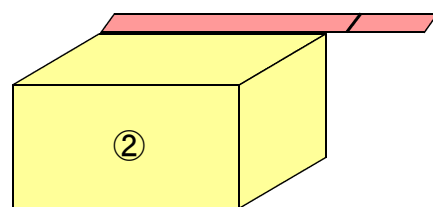
- 1 ①から③のなかでどのてえぷがいちばんながいでしょうか。
いちばんながいてえぷの()に○をかきましょう。



- 2 おなじてえぷで2つのはこのよこのながさをくらべました。
①と②ではどちらのはこがながいでしょうか。ながいほうの
()に○をかきましょう。



(○)



()

※おうちのひとにも みてもらいましょう。

