

わか杉<sup>すぎ</sup>「さんすう」シート **しょう1-4-③**  
**<のこりはいくつ・ちがいはいくつ③>**

秋田県教育委員会

くみ	ばん	なまえ
----	----	-----

1 ひきざんを しましょう。


(1)  $5 - 0 = \square$

(2)  $9 - 9 = \square$

2 いちごが 3こ あります。


のこりの いちごは なんこに なるか かんがえます。  $\square$  に あてはまる かずを かきましょう。

1こ たべると




$3 - 1 = \square$

2こ たべると




$3 - 2 = 1$

3こ たべると



$3 - 3 = \square$

1こも たべないと



$\square - \square = \square$

わか杉<sup>すぎ</sup>「さんすう」シート **しょう1-4-③**  
**<のこりはいくつ・ちがいはいくつ③>**

秋田県教育委員会

**こたえ**

く	み	ば	ん	な	ま	え
---	---	---	---	---	---	---


1 ひきざんを しましょう。

(1)  $5 - 0 = \boxed{5}$       (2)  $9 - 9 = \boxed{0}$

2 いちごが 3こ あります。


のこりの いちごは なんこに なるか かんがえます。  に あてはまる かずを かきましょう。

1こ たべると




$3 - 1 = \boxed{2}$

2こ たべると




$3 - 2 = 1$

3こ たべると



$3 - 3 = \boxed{0}$

1こも たべないと



$\boxed{3} - \boxed{0} = \boxed{3}$

※おうちのひとにも みてもらいましょう。