

わか杉<sup>すぎ</sup>「さんすう」シート **しょう1-4-②**  
**<のこりはいくつ・ちがいはいくつ②>**

秋田県教育委員会

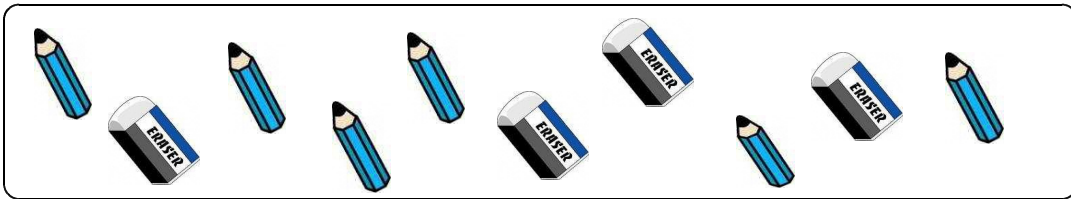
くみ	ばん	なまえ
----	----	-----

- 1 いぬとねこがあわせて9ひきいます。  
 いぬは5ひきです。ねこはなんひきでしょう。しきとこたえをかきましょう。

しき

こたえ

- 2 えんぴつ<sup>えんぴつ</sup>とけしごむ<sup>けしごむ</sup>のかずのちがいはいくつですか。



しき

こたえ

わか杉<sup>すぎ</sup>「さんすう」シート **しょう1-4-②**  
**<のこりはいくつ・ちがいはいくつ②>**

秋田県教育委員会

**こたえ**

くみ	ばん	なまえ
----	----	-----



- ① いぬと ねこが あわせて 9ひき います。  
 いぬは 5ひきです。ねこは なんひきでしょう。しきと こたえを  
 かきましょう。

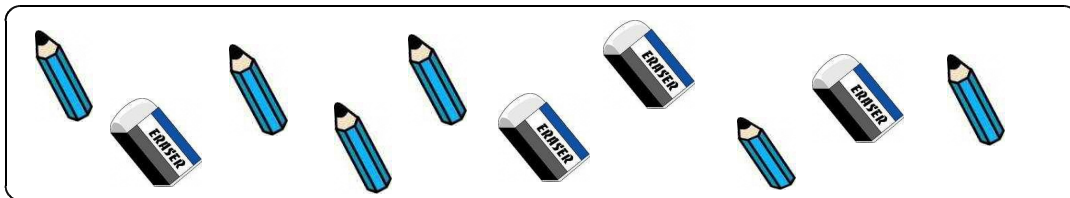
しき

$$9 - 5 = 4$$

こたえ

4 にん

- ② えんぴつ  と けしごむ  の かずの ちがいは いくつですか。



しき

$$6 - 4 = 2$$

こたえ

2 つ

※おうちのひとにも みてもらいましょう。