


わか杉<sup>すぎ</sup>「さんすう」シート **しょう1-4-①**  
**<のこりはいくつ・ちがいはいくつ①>**



秋田県教育委員会



くみ	ばん	なまえ
----	----	-----

- 1 あめ  が 8こ あります。  
 3こ たべると のこりは なんこに なりますか。しきと こたえを かきましょう。



しき  -  =       こたえ  こ

- 2 りんご  と みかん  では どちらが なんこ おおいでしょう。しきと  
 こたえを かきましょう。



しき


こたえ  が  こ おおい

わか杉<sup>すぎ</sup>「さんすう」シート **しょう1-4-①**  
**<のこりはいくつ・ちがいはいくつ①>**

秋田県教育委員会



**こたえ**



く	み	ば	ん	な	ま	え

- 1 あめ  が 8こ あります。  
 3こ たべると のこりは なんこに なりますか。しきと こたえを かきましょう。



しき  $\boxed{8} - \boxed{3} = \boxed{5}$       こたえ  $\boxed{5}$  こ

- 2 りんご  と みかん  では どちらが なんこ おおいでしょう。しきと  
 こたえを かきましょう。



しき  $\boxed{7 - 4 = 3}$

こたえ  $\boxed{\text{みかん}}$  が  $\boxed{3}$  こ おおい

※おうちのひとにも みてもらいましょう。