

わか杉<sup>すぎ</sup>「さんすう」シート **しょう1-3-③**  
**<あわせていくつ・ふえるといくつ③>**

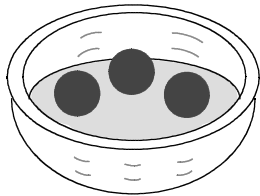
秋田県教育委員会

くみ	ばん	なまえ
----	----	-----

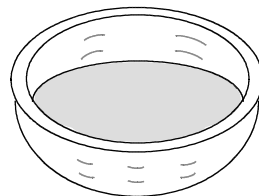
1 たまいれを 2かい しました。

(1) 1かいめと 2かいめに はいった かずを あわせると なんこになるでしょうか。しきと こたえを かきましょう。

1かいめ




2かいめ

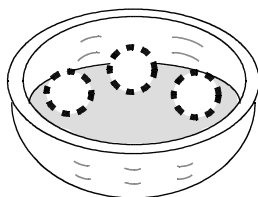


しき

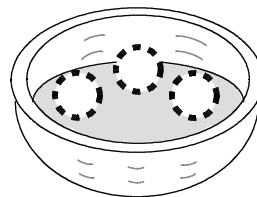
こたえ

(2) 1かいめと 2かいめに はいった かずを あわせると 2+0の しきになりました。どのように はいってますか。かごの なかの  に いろをぬりましょう。

1かいめ



2かいめ

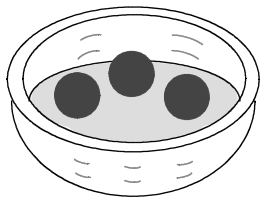


**こたえ**

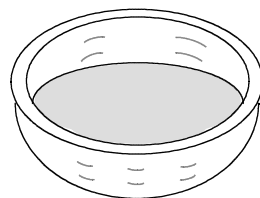
く	み	ば	ん	な	ま	え
---	---	---	---	---	---	---

- 1 たまいれを 2かい しました。  
 (1) 1かいめと 2かいめにはいった かずを あわせると なんこになるでしょうか。しきと こたえをかきましょう。

1かいめ




2かいめ

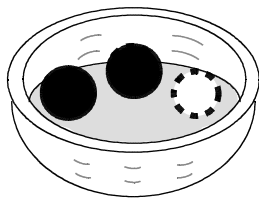


しき  $3 + 0 = 3$

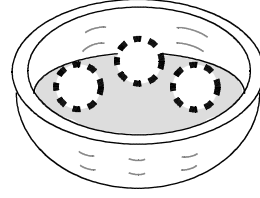
こたえ  $3$  こ

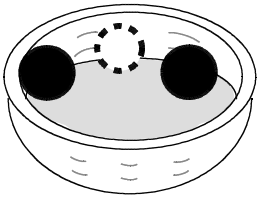
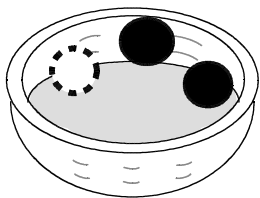
- (2) 1かいめと 2かいめにはいった かずを あわせると 2+0の しきになりました。どのように はいっていますか。かごの なかの  に いろをぬりましょう。

1かいめ



2かいめ



1かいめは  か  も こたえ になります。

※うちのひとにも みてもらいましょう。