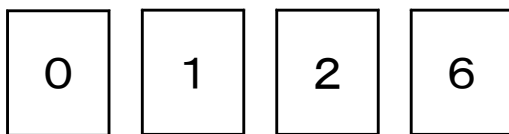


<整数の性質②>

組	番	名前

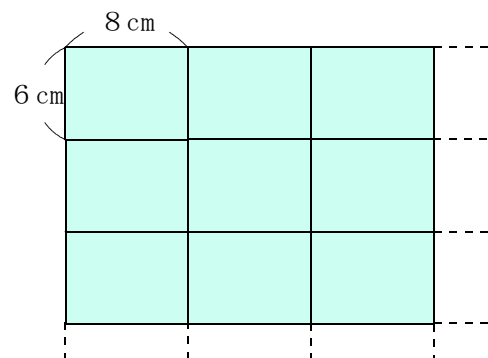
- 1 次のように0, 1, 2, 6の数字が書かれている4枚のカードがあります。この4枚の数字を並べて4けたの数をつくる時、最も小さな奇数を書きましょう。ただし、数のはじめに0のカードは並べられません。



- 2 次の数のうち、素数をすべて○でかこみましょう。

1	2	3	4	5	6	7	8	9	10
11	12	13	14	15	16	17	18	19	20

- 3 たて6 cm, 横8 cmの長方形のタイルを、右の図のようにすき間なくならべて、できるだけ小さい正方形をつくります。
いちばん小さい正方形の1辺の長さは何cmになりますか。



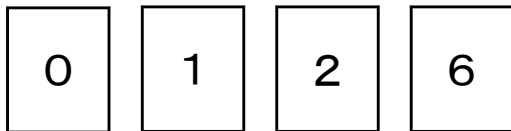
c m

<整数の性質②>

解 答

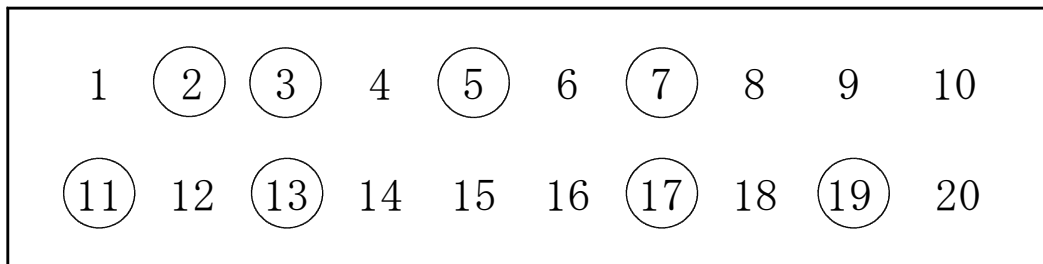
組	番	名前

- 1 次のように0, 1, 2, 6の数字が書かれている4枚のカードがあります。この4枚の数字を並べて4けたの数をつくる時、最も小さな奇数を書きましょう。ただし、数のはじめに0のカードは並べられません。



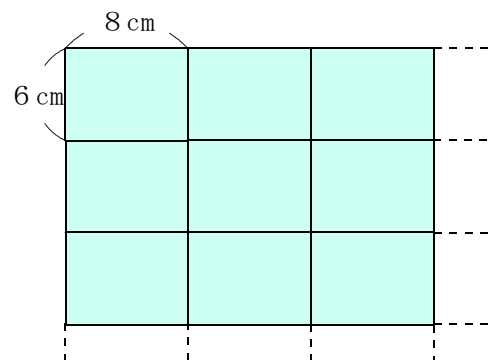
2 0 6 1

- 2 次の数のうち、素数をすべて○でかこみましょう。



- 3 たて6 cm, 横8 cmの長方形のタイルを、右の図のようにすき間なくならべて、できるだけ小さい正方形をつくります。

いちばん小さい正方形の1辺の長さは何cmになりますか。



2 4 c m