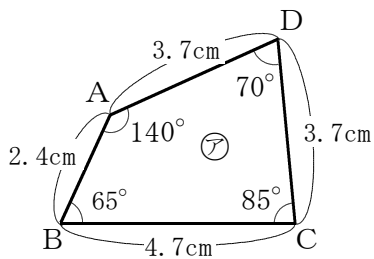


<合同な図形①>

組	番	名前
---	---	----

1 次の図形の中から、合同な図形の組をすべて選んで、その記号を書きましょう。

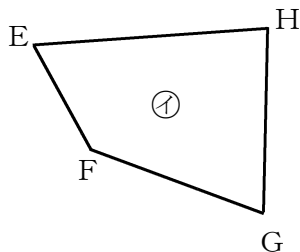
2 次の㊦と㊧の四角形は合同です。(1), (2)の問いに答えましょう。



(1) ㊦と㊧の四角形について、次の①, ②にあてはまる記号を書きましょう。

- ・ ちょう点Aに対応するちょう点は、ちょう点 です。
- ・ 辺CDに対応する辺は、辺 です。

①		②	
---	--	---	--



(2) 角Hの大きさと辺FGの長さを書きましょう

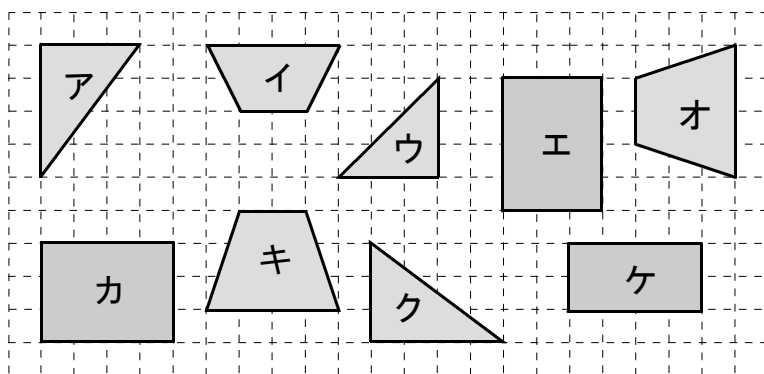
角H	°	辺FG	cm
----	---	-----	----

<合同な図形①>

解 答

組	番	名前
---	---	----

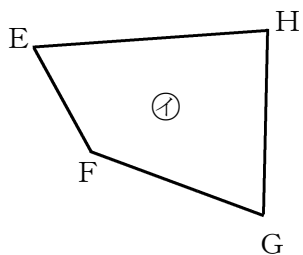
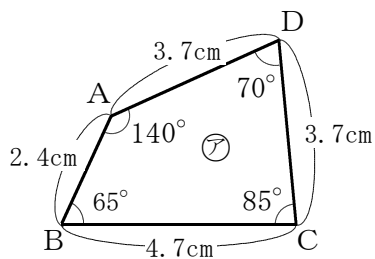
1 次の図形の中から、合同な図形の組をすべて選んで、その記号を書きましょう。



アとク,
エとカ,
オとキ

※どのような順番でも、
3組書けば正解です。

2 次の㊦と㊧の四角形は合同です。(1)、(2)の問いに答えましょう。



(1) ㊦と㊧の四角形について、次の①、②にあてはまる記号を書きましょう。

- ・ちょう点Aに対応するちょう点は、ちょう点 です。
- ・辺CDに対応する辺は、辺 です。

①	F	②	HG
---	---	---	----

※GHでも正解です。

(2) 角Hの大きさと辺FGの長さを書きましょう

角H	85 °	辺FG	3.7 cm
----	------	-----	--------