

<小数のかけ算とわり算②>

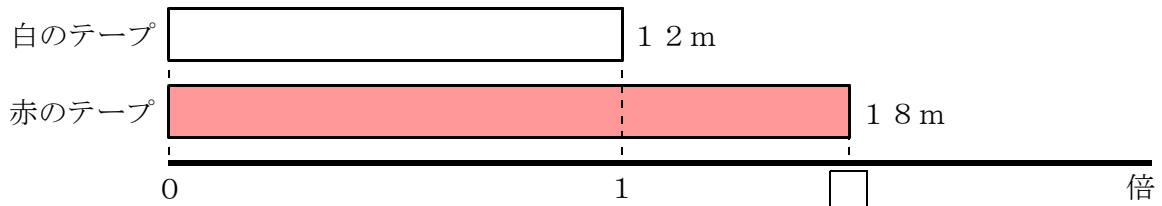
組	番	名前
---	---	----

1 9 Lのジュースを5人で等分すると、1人分は何Lになりますか。式と答えを書きましょう。

式	答え L
---	---------------

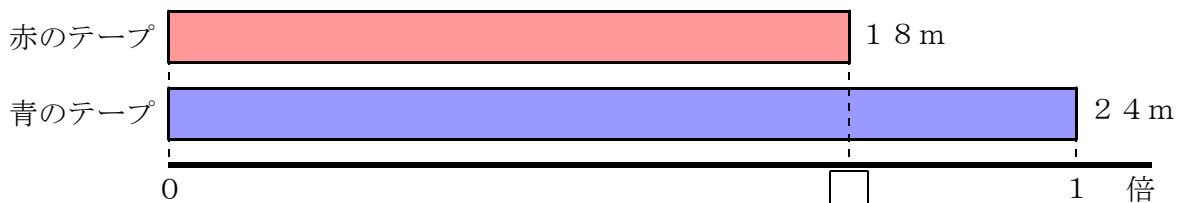
2 白のテープは12 m、赤のテープは18 m、青のテープは24 mです。次の(1)、(2)の問いに答えましょう。

(1) 赤のテープの長さは、白のテープの長さの何倍でしょうか。式と答えを書きましょう。



式	答え 倍
---	---------------

(2) 赤のテープの長さは、青のテープの長さの何倍でしょうか。式と答えを書きましょう。



式	答え 倍
---	---------------

<小数のかけ算とわり算②>

答え

組	番	名前

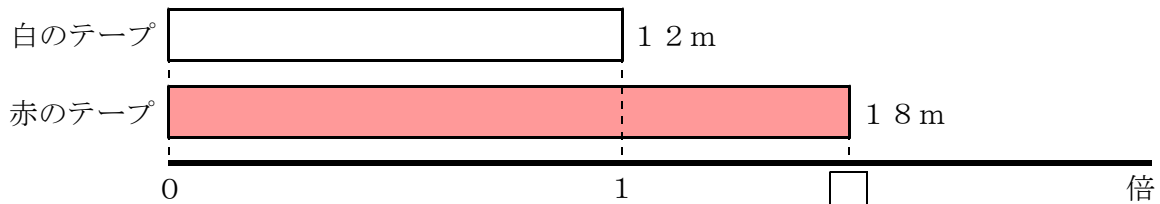
- 1 9 Lのジュースを5人で等分すると、1人分は何Lになりますか。式と答えを書きましょう。

式	(例) $9 \div 5 = 1.8$	答え	1.8 L
---	----------------------	----	-------

※式は、 $9 \div 5$ でもせいかいです。

- 2 白のテープは12 m、赤のテープは18 m、青のテープは24 mです。次の(1)、(2)の問いに答えましょう。

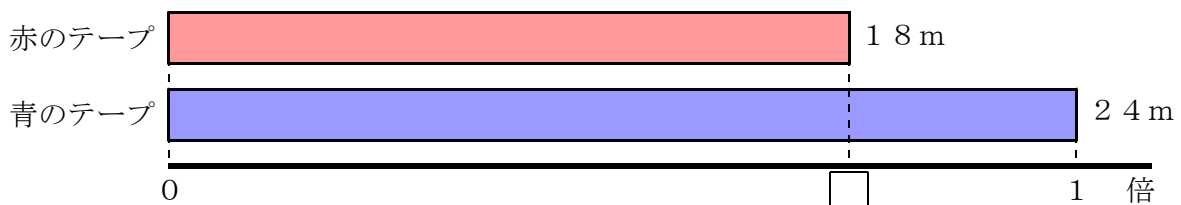
- (1) 赤のテープの長さは、白のテープの長さの何倍でしょうか。式と答えを書きましょう。



式	(例) $18 \div 12 = 1.5$	答え	1.5 倍
---	------------------------	----	-------

※式は、 $18 \div 12$ でもせいかいです。

- (2) 赤のテープの長さは、青のテープの長さの何倍でしょうか。式と答えを書きましょう。



式	(例) $18 \div 24 = 0.75$	答え	0.75 倍
---	-------------------------	----	--------

※式は、 $18 \div 24$ でもせいかいです。