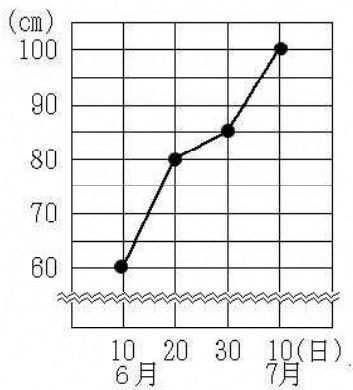


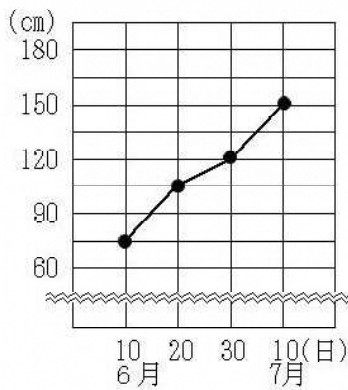
<折れ線グラフ・整理のしかた③>

組	番	名前

- 1 右の折れ線グラフは、2人が育てているひまわりの高さの変わり方を表したものです。6月10日から7月10日までの1か月ののびが大きかったのは、どちらのひまわりか選
び、で囲みましょう。また、そのわけを言葉や数を使って の中に書きましょう。



あやさんのひまわり



けいすけさんのひまわり

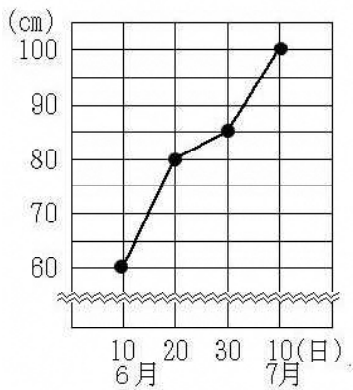
<p>あやさんのひまわり</p> <p>けいすけさんのひまわり</p>	<p>わけ</p>
-------------------------------------	-----------

<折れ線グラフ・整理のしかた③>

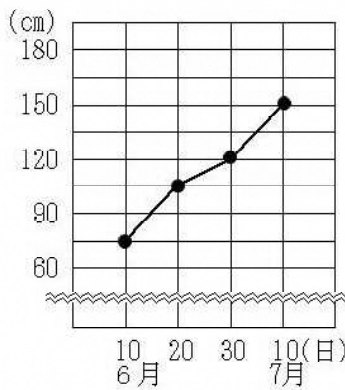
答え

組	番	名前

- 1 右の折れ線グラフは、2人が育てているひまわりの高さの変わり方を表したものです。6月10日から7月10日までの1か月間ののびが大きかったのは、どちらのひまわりか選び、 で囲みましょう。また、そのわけを言葉や数を使って の中に書きましょう。



あやさんのひまわり



けいすけさんのひまわり

<p>あやさんのひまわり</p> <p><u> </u></p> <p>けいすけさんのひまわり</p>	<p>わけ</p> <p>(例)ひまわりのくきの長さの変わり方は、あやさんのひまわりが40cm、けいすけさんのひまわりが75cmだから、1か月間ののびが大きかったのは、けいすけさんのひまわりです。</p>
--	--