
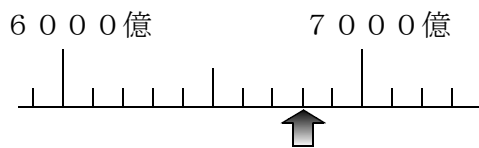


<大きな数②>

組	番	名前
---	---	----

1 次の数直線で、 のめもりが表す数を数字で書きましょう。



--

2 次の(1)～(2)の問いに答えましょう。

(1) 207億を10倍した数はいくつですか。

(1)	
-----	--

(2) 590兆ちようを $\frac{1}{10}$ にした数はいくつですか。

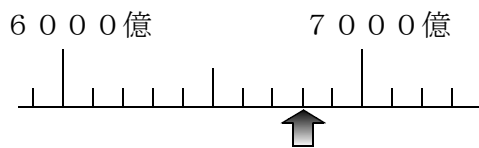
(2)	
-----	--

<大きな数②>

答え

組	番	名前
---	---	----

1 次の数直線で、↑のめもりが表す数を数字で書きましょう。



680000000000

2 次の(1)～(2)の問いに答えましょう。

(1) 207億を10倍した数はいくつですか。

(1) (例) 2070億

(2) 590兆を $\frac{1}{10}$ にした数はいくつですか。

(2) (例) 59兆