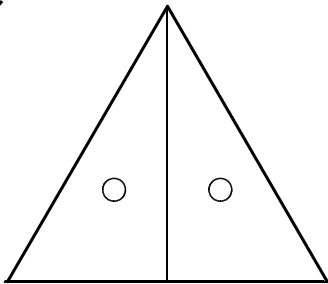


<三角形と角①>

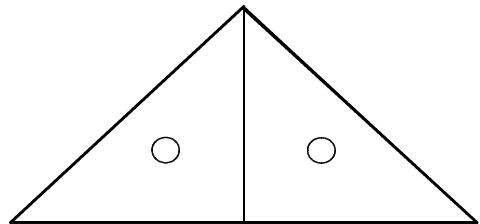
組	番	名前
---	---	----

1 2まいの三角定規を使って、次のアとイの三角形をつくりました。それぞれ何という三角形でしょうか。

ア

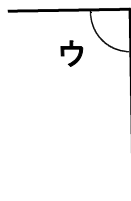
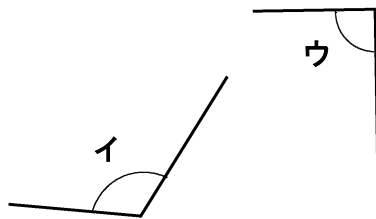
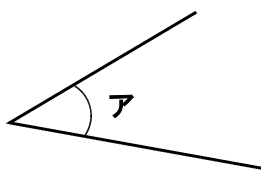


イ



ア		イ	
---	--	---	--

2 三角じょうぎを使って、次のア、イ、ウの角の大きさをくらべて、大きい順に書きましよう。



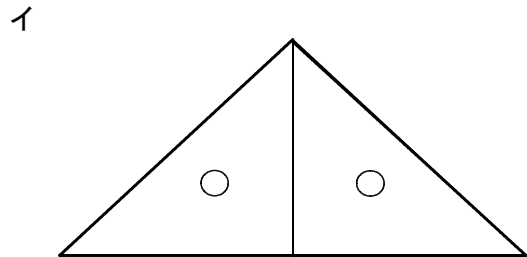
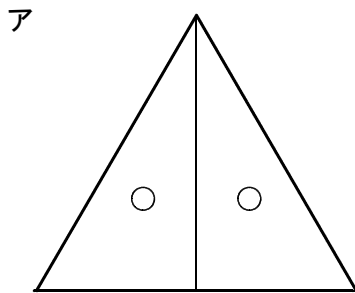
大きい	小さい
→	→

<三角形と角①>

こたえ

組	番	名前
---	---	----

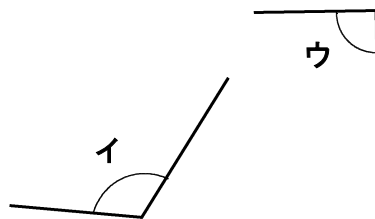
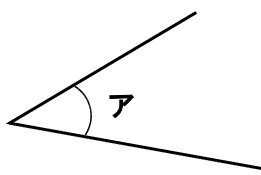
1 2まいの三角定規を使って、次のアとイの三角形をつくりました。それぞれ何という三角形でしょうか。



ア	正三角形	イ	二等辺三角形
---	------	---	--------

※直角二等辺三角形でも
せいかいです。

2 三角じょうぎを使って、次のア、イ、ウの角の大きさをくらべて、大きい順じゅんに書きましよう。



ウ

大きい
イ → ウ → ア
小さい