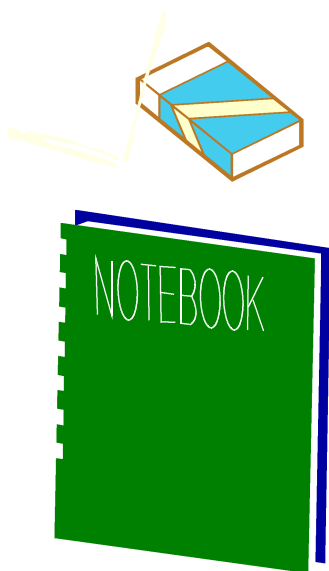


<□を使った式2③>

組	番	名前

- 1 みさきさんは、消しゴムを1個買いました。消しゴムは80円でした。ノートも1冊ほしくなったので買ったら、全部で215円になりました。ノートのねだんは何円でしょうか。ノートのねだんを□円として、ノートのねだんのもとめ方をせつ明しましょう。また、ノートのねだんを書きましょう。



せつ明

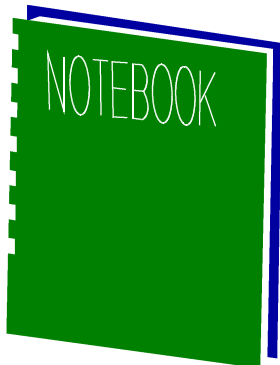

ノートのねだん \_\_\_\_\_ 円

<□を使った式2③>

こたえ

組	番	名前

- 1 みさきさんは、消しゴムを1個買いました。消しゴムは80円でした。ノートも1冊ほしくなったので買ったら、全部で215円になりました。ノートのねだんは何円でしょうか。ノートのねだんを□円として、ノートのねだんのもとめ方をせつ明しましょう。また、ノートのねだんを書きましょう。



せつ明

(例)

□を使った式は、

$$80 + \square = 215$$

となる。

$$215 - 80 = 135$$

ノートのねだん 135 円