

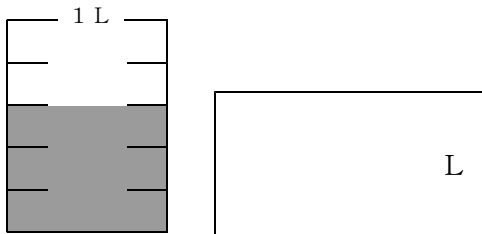
わか杉「算数」シート 小3-14-①
 <分数①>

秋田県教育委員会

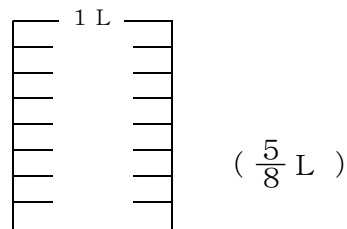
組	番	名前
---	---	----

1 次の(1), (2)の問いに答えましょう。

(1) 水を1 Lますに入れたら、
 図のようになりました。
 水のかさは、何Lですか。
 分数で書きましょう。



(2) 1 Lますの図に () の中の
 かさだけ色をぬりましょう。



2 □ にあてはまる数を書きましょう。

$\frac{1}{7}$ Lの5こぶんは、
 □ ① Lです。

①	
---	--

$\frac{5}{5}$ mは □ ② mが5つぶんです。
 また、□ ③ mとひとしいです。

②		③	
---	--	---	--

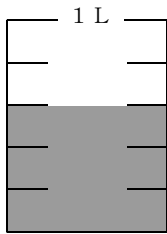
<分数①>

こたえ

組	番	名前
---	---	----

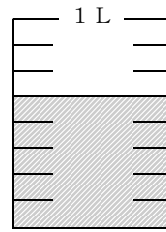
① 次の(1), (2)の問いに答えましょう。

(1) 水を1 Lますに入れたら、
図のようになりました。
水のかさは、何Lですか。
分数で書きましょう。



$\frac{3}{5}$ L

(2) 1 Lますの図に () の中のかさだけ色をぬりましょう。



($\frac{5}{8}$ L)

② □ にあてはまる数を書きましょう。

$\frac{1}{7}$ L の 5 こぶんは、
□ ① L です。



$\frac{5}{5}$ m は □ ② m が 5 つぶんです。
また、□ ③ m とひとしいです。



① $\frac{5}{7}$

② $\frac{1}{5}$ ③ 1