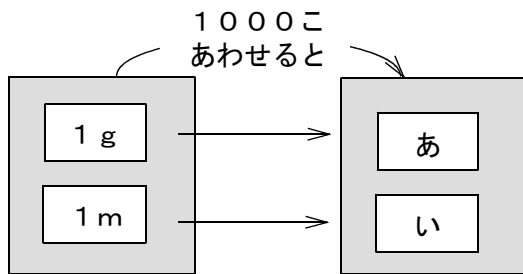


<重さのたんいとはかり方②>

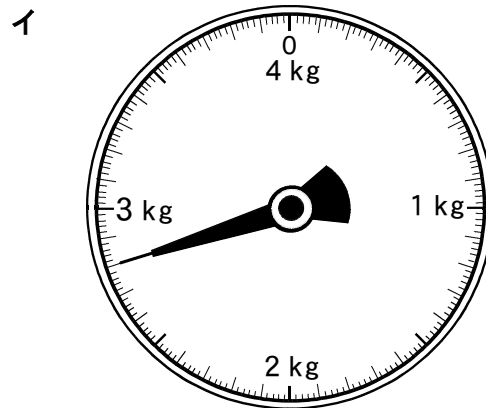
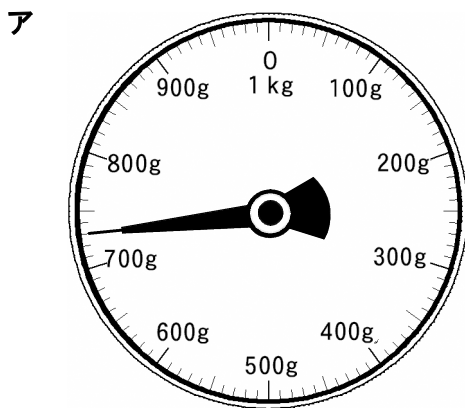
組	番	名前
---	---	----

1 [あ], [い] にあてはまる重さや長さを, g や m ではないたんいをつけて書きましょう。



あ	
い	

2 図を見て, 答えましょう。



(1) アのはかりでは, 何kgまではかれますか。  
また, いちばん小さい1めもりは何g あらわ を表しているでしょうか。

(1)	_____ kg までのかかれて, いちばん小さい1めもりは _____ g です。
-----	--

(2) アとイのはかりのはりがさしている重さを書きましょう。

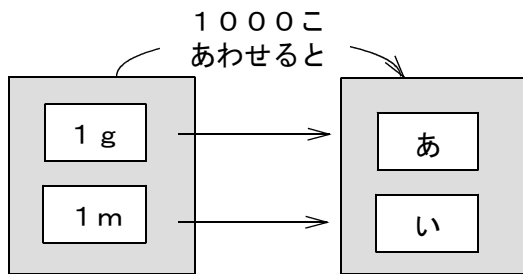
(2)	ア	イ
-----	---	---

<重さのたんいとはかり方②>

**こたえ**

組	番	名前
---	---	----

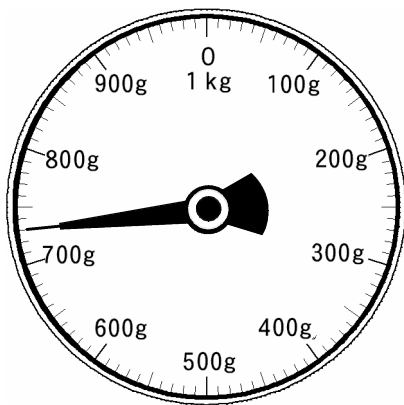
1 **あ** , **い** にあてはまる重さや長さを, g や m ではないたんいをつけて書きましょう。



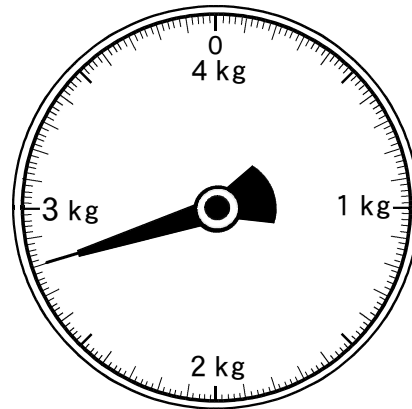
あ	1 k g
い	1 k m

2 図を見て, 答えましょう。

ア



イ



- (1) **ア**のはかりでは, 何kgまではかれますか。  
また, いちばん小さい1めもりは何g <sup>あらわ</sup>を表しているでしょうか。

(1)	<u>1</u> kg まではかれて, いちばん小さい1めもりは <u>10</u> g です。
-----	--

- (2) **ア**と**イ**のはかりのはりがさしている重さを書きましょう。

(2)	<b>ア</b> (例) 730g	<b>イ</b> (例) 2kg800g
-----	-------------------	----------------------