
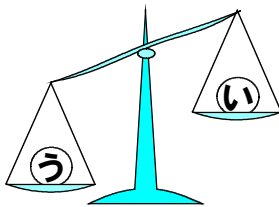


<重さのたんいとはかり方①>

組	番	名前

- 1 おも重さのちがう3しゅるいのボール(あ), (い), (う)があります。それぞれ重さをくらべると、図のようになりました。シーソーと同じで、重い方が下がります。重いじゅんに記号を書きましょう。



→
→

- 2 重さが1kg にいちばん近いものをえらんで、記号を書きましょう。ただし、中には何も入っていません。

ア 教室のつくえ



イ ランドセル



ウ ふでばこ 筆箱



- 3 に、あてはまる重さのたんいを書きましょう。

(1) 1円玉40このおも重さ 40


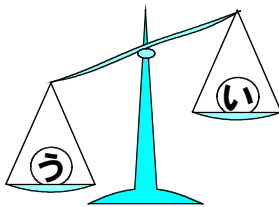
(2) バスのおも重さ 11

<重さのたんいとはかり方①>

こたえ

組	番	名前

- ① ^{おも}重さのちがう3しゅるいのボール(あ), (い), (う)があります。それぞれ重さをくらべると、図のようになりました。シーソーと同じで、重い方が下がります。重いじゅんに^{きごう}記号を書きましょう。



あ → う → い

- ② 重さが1kg にいちばん近いものをえらんで、記号を書きましょう。ただし、中には何も入っていません。

ア 教室のつくえ



イ ランドセル



ウ ^{ふでばこ}筆箱



イ

- ③ に、あてはまる重さのたんいを書きましょう。

(1) 1円玉40この^{おも}重さ 40

g

(2) バスの^{おも}重さ 11

t