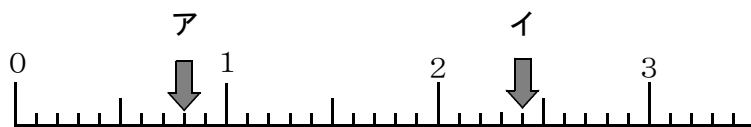


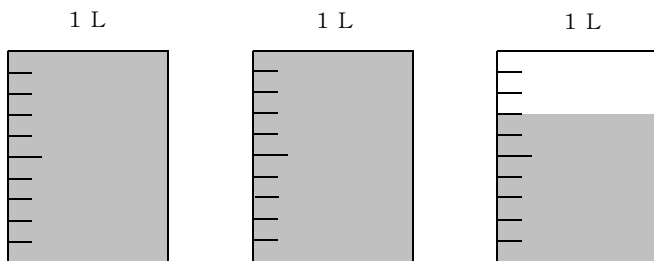
組	番	名前
---	---	----

1 ^{つき} 次の数直線で、アとイにあてはまる数を書きましょう。



ア	
イ	

2 やかんの水を1 Lのますではかったら、図のようになりました。水のかさは何Lですか。
 小数で表^{あらわ}しましょう。



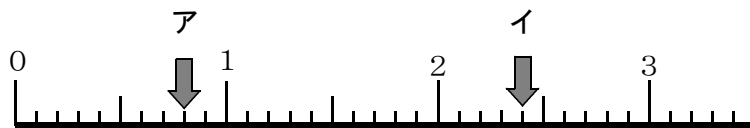
	L
--	---

<小数①>

こたえ

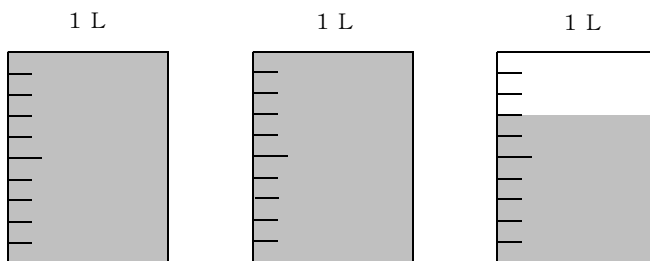
組	番	名前
---	---	----

- 1 ^{つぎ} 次の数直線で、アとイにあてはまる数を書きましょう。



ア	0.8
イ	2.4

- 2 やかんの水を1 Lのますではかったら、図のようになりました。水のかさは何Lですか。
小数で^{あらわ}表しましょう。



2.7 L