

わか杉「算数」シート 小3-8-②
 <10000より大きい数②>

秋田県教育委員会

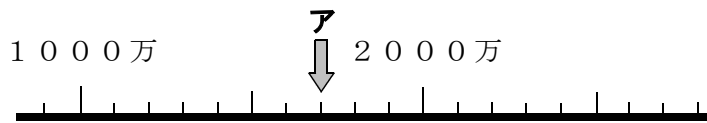
組	番	名前
---	---	----

① 次の(1)～(2)の問いに答えましょう。

0, 1, 2, 3, 4, 5, 6, 7 の8まいのカードすべてをならべて、いちばん小さい数をつくりましょう。ただし、数のはじめに 0 のカードはならべられません。

(3)	
-----	--

② 次の数直線で、アのめもりが表す数を書きましょう。




	万
--	---

③ さくらさんのせつ明が正しくなるように、□にあてはまる数を書きましょう。

7000を10でわった数は、です。

また、35を1000倍した数は、

になります。



さくらさん

わか杉^{すぎ}「算数」^{さんすう}シート 小3-8-②
 <10000より大きい数②>

秋田県教育委員会

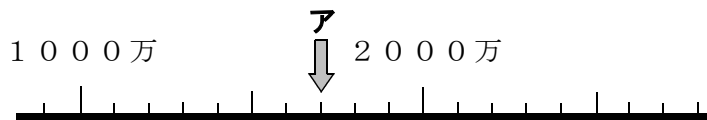
こたえ

組	番	名前

- ① 次の問いに答えましょう。
 ① ② ③ ④ ⑤ ⑥ ⑦ の8まいのカードすべてをならべて、いちばん小さい数をつくりましょう。ただし、数のはじめに ① のカードはならべられません。

1 0 2 3 4 5 6 7

- ② 次の数直線で、アのめもりが^{あらわ}表す数を書きましょう。



1 7 0 0 万

- ③ さくらさんのせつ明が正しくなるように、□にあてはまる数を書きましょう。

7000を10でわった数は、 です。

また、35を1000^{ばい}倍した数は、 になります。



さくらさん