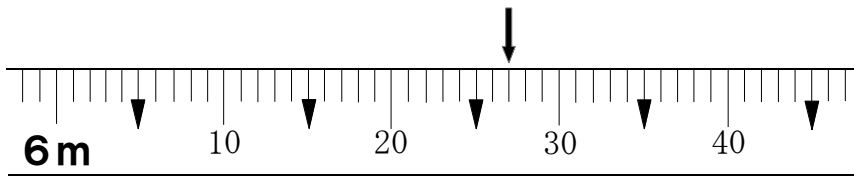


組	番	名前
---	---	----

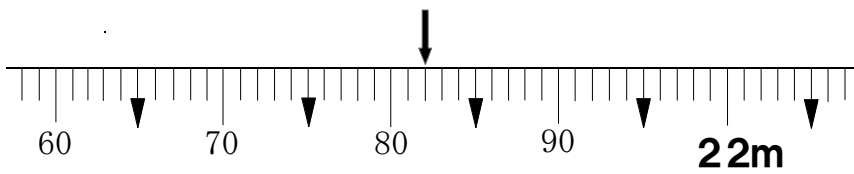
1 まきじゃくの ↓ のところのめもりをよみましょう。

(1)



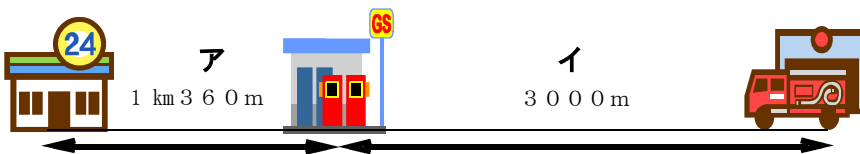
(1)	
-----	--

(2)



(2)	
-----	--

2 図を見て答えましょう。



(1) Aの長さは何mでしょうか。

m

(2) Iの長さは何kmでしょうか。

km

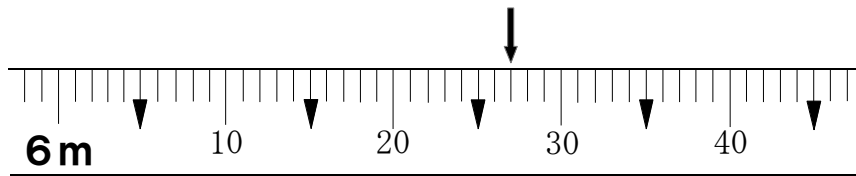
<長さ①>

こたえ

組	番	名前
---	---	----

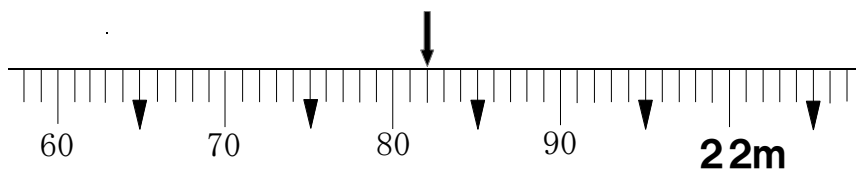
1 まきじゃくの ↓ のところのめもりをよみましょう。

(1)



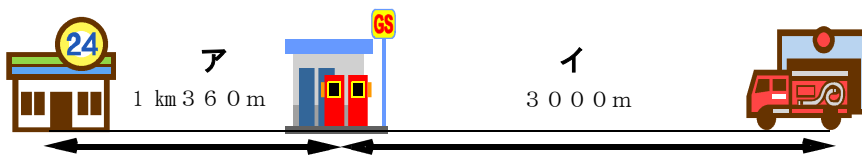
(1) 6 m 2 7 cm

(2)



(2) 2 1 m 8 2 cm

2 図を見て答えましょう。



(1) Aの長さは何mでしょうか。

1 3 6 0 m

(2) Iの長さは何kmでしょうか。

3 km